


ДЕПАРТАМЕНТ КУЛЬТУРЫ ГОРОДА МОСКВЫ

Государственное бюджетное учреждение средняя общеобразовательная школа с дополнительным образованием города Москвы «Класс – Центр»

<p>Принято художественно- педагогическим советом школы</p> <p>Протокол №1 От 24.08.2020 г.</p>	<p>Утверждаю: Директор школы</p>  <p>ГБУСОШДО г. Москвы «Класс-центр» (Казарновский С.З.)</p> <p>Приказ № 1у От 01.09.2020 г.</p>
--	--

РАБОЧАЯ ПРОГРАММА
ПО ПРЕДМЕТУ «ФИЗИКА»
ДЛЯ 8 КЛАССОВ

Составители:

учитель физики
Рандошкин И.В.

Москва

2020

Пояснительная записка

Рабочая программа по учебному предмету «Физика» составлена на основе авторской программы А.В. Перышкина, Н.В. Филонович, Е.М., Е.М. Гутник «Программа основного общего образования. Физика. 7-9 классы», Дрофа, 2013г.

На реализацию данной программы, согласно учебному плану учреждения, отводится 2 часа в неделю, 70 часов в год.

Используемый учебник: Физика: учебник для 8 класса / Перышкин А.В.– М.: «Дрофа», 2014 г.

Планируемые результаты освоения учебного предмета

Предметные результаты

Тепловые явления

Учащийся научится:

- распознавать тепловые явления и объяснять на базе имеющихся знаний основные свойства или условия протекания этих явлений: диффузия, изменение объема тел при нагревании (охлаждении), большая сжимаемость газов, малая сжимаемость жидкостей и твердых тел; тепловое равновесие, испарение, конденсация, плавление, кристаллизация, кипение, влажность воздуха, различные способы теплопередачи (теплопроводность, конвекция, излучение), агрегатные состояния вещества, поглощение энергии при испарении жидкости и выделение ее при конденсации пара, зависимость температуры кипения от давления;

- описывать изученные свойства тел и тепловые явления, используя физические величины: количество теплоты, внутренняя энергия, температура, удельная теплоемкость вещества, удельная теплота плавления, удельная теплота парообразования, удельная теплота сгорания топлива, коэффициент полезного действия теплового двигателя; при описании правильно трактовать физический смысл используемых величин, их обозначения и единицы измерения, находить формулы, связывающие данную физическую величину с другими величинами, вычислять значение физической величины;

- анализировать свойства тел, тепловые явления и процессы, используя основные положения атомно-молекулярного учения о строении вещества и закон сохранения энергии;

- различать основные признаки изученных физических моделей строения газов, жидкостей и твердых тел;

- приводить примеры практического использования физических знаний о тепловых явлениях;

- решать задачи, используя закон сохранения энергии в тепловых процессах и формулы, связывающие физические величины (количество теплоты, температура, удельная теплоемкость вещества, удельная теплота плавления, удельная теплота парообразования, удельная теплота сгорания топлива, коэффициент полезного действия теплового двигателя): на основе анализа условия задачи записывать краткое условие, выделять физические величины, законы и формулы, необходимые для ее решения, проводить расчеты и оценивать реальность полученного значения физической величины.

Учащийся получит возможность научиться:

- использовать знания о тепловых явлениях в повседневной жизни для обеспечения

безопасности при обращении с приборами и техническими устройствами, для сохранения здоровья и соблюдения норм экологического поведения в окружающей среде; приводить примеры экологических последствий работы двигателей внутреннего сгорания, тепловых и гидроэлектростанций;

- различать границы применимости физических законов, понимать всеобщий характер фундаментальных физических законов (закон сохранения энергии в тепловых процессах) и ограниченность использования частных законов;

- находить адекватную предложенной задаче физическую модель, разрешать проблему как на основе имеющихся знаний о тепловых явлениях с использованием математического аппарата, так и при помощи методов оценки.

Электрические явления

Учащийся научится:

- распознавать электрические явления и объяснять на основе имеющихся знаний основные свойства или условия протекания этих явлений: электризация тел, взаимодействие зарядов, электрический ток и его действия (тепловое, химическое, магнитное).

- составлять схемы электрических цепей с последовательным и параллельным соединением элементов, различая условные обозначения элементов электрических цепей (источник тока, ключ, резистор, реостат, лампочка, амперметр, вольтметр).

- описывать изученные свойства тел и электрические явления, используя физические величины: электрический заряд, сила тока, электрическое напряжение, электрическое сопротивление, удельное сопротивление вещества, работа электрического поля, мощность тока; при описании верно трактовать физический смысл используемых величин, их обозначения и единицы измерения; находить формулы, связывающие данную физическую величину с другими величинами.

- анализировать свойства тел, электрические явления и процессы, используя физические законы: закон сохранения электрического заряда, закон Ома для участка цепи, закон Джоуля-Ленца, при этом различать словесную формулировку закона и его математическое выражение.

- приводить примеры практического использования физических знаний об электрических явлениях.

- решать задачи, используя физические законы (закон Ома для участка цепи, закон Джоуля-Ленца) и формулы, связывающие физические величины (сила тока, электрическое напряжение, электрическое сопротивление, удельное сопротивление вещества, работа электрического поля, мощность тока, формулы расчета электрического сопротивления при последовательном и параллельном соединении проводников); на основе анализа условия задачи записывать краткое условие, выделять физические величины, законы и формулы, необходимые для ее решения, проводить расчеты и оценивать реальность полученного значения физической величины.

Учащийся получит возможность научиться:

- использовать знания об электрических явлениях в повседневной жизни для обеспечения безопасности при обращении с приборами и техническими устройствами, для сохранения здоровья и соблюдения норм экологического поведения в окружающей среде; приводить примеры влияния электромагнитных излучений на живые организмы;

- различать границы применимости физических законов, понимать всеобщий характер фундаментальных законов (закон сохранения электрического заряда) и ограниченность использования частных законов (закон Ома для участка цепи, закон Джоуля-Ленца и др.);

- использовать приемы построения физических моделей, поиска и формулировки доказательств выдвинутых гипотез и теоретических выводов на основе эмпирически

установленных фактов;

- *находить адекватную предложенной задаче физическую модель, разрешать проблему как на основе имеющихся знаний об электромагнитных явлениях с использованием математического аппарата, так и при помощи методов оценки.*

Магнитные явления

Учащийся научится:

- распознавать магнитные явления и объяснять на основе имеющихся знаний основные свойства или условия протекания этих явлений: взаимодействие магнитов, электромагнитная индукция, действие магнитного поля на проводник с током и на движущуюся заряженную частицу, действие электрического поля на заряженную частицу.

- описывать изученные свойства тел и магнитные явления, используя физические величины: скорость электромагнитных волн; при описании верно трактовать физический смысл используемых величин, их обозначения и единицы измерения; находить формулы, связывающие данную физическую величину с другими величинами.

- анализировать свойства тел, магнитные явления и процессы, используя физические законы; при этом различать словесную формулировку закона и его математическое выражение.

- приводить примеры практического использования физических знаний о магнитных явлениях

- решать задачи, используя физические законы и формулы, связывающие физические величины; на основе анализа условия задачи записывать краткое условие, выделять физические величины, законы и формулы, необходимые для ее решения, проводить расчеты и оценивать реальность полученного значения физической величины.

Учащийся получит возможность научиться:

- *использовать знания о магнитных явлениях в повседневной жизни для обеспечения безопасности при обращении с приборами и техническими устройствами, для сохранения здоровья и соблюдения норм экологического поведения в окружающей среде; приводить примеры влияния электромагнитных излучений на живые организмы;*

- *различать границы применимости физических законов, понимать всеобщий характер фундаментальных законов.*

- *использовать приемы построения физических моделей, поиска и формулировки доказательств выдвинутых гипотез и теоретических выводов на основе эмпирически установленных фактов;*

находить адекватную предложенной задаче физическую модель, разрешать проблему как на основе имеющихся знаний об магнитных явлениях с использованием математического аппарата, так и при помощи метода оценки.

Световые явления

Учащийся научится:

- распознавать световые явления и объяснять на основе имеющихся знаний основные свойства или условия протекания этих явлений: прямолинейное распространение света, отражение и преломление света, дисперсия света.

- использовать оптические схемы для построения изображений в плоском зеркале и собирающей линзе.

- описывать изученные свойства тел и световые явления, используя физические величины: фокусное расстояние и оптическая сила линзы, скорость электромагнитных волн, длина волны и частота света; при описании верно трактовать физический смысл используемых величин, их обозначения и единицы измерения; находить формулы,

связывающие данную физическую величину с другими величинами.

- анализировать свойства тел, световые явления и процессы, используя физические законы: закон прямолинейного распространения света, закон отражения света, закон преломления света; при этом различать словесную формулировку закона и его математическое выражение.

- приводить примеры практического использования физических знаний о световых явлениях.

- решать задачи, используя физические законы (закон прямолинейного распространения света, закон отражения света, закон преломления света) и формулы, связывающие физические величины (фокусное расстояние и оптическая сила линзы, скорость электромагнитных волн, длина волны и частота света): на основе анализа условия задачи записывать краткое условие, выделять физические величины, законы и формулы, необходимые для ее решения, проводить расчеты и оценивать реальность полученного значения физической величины.

Учащийся получит возможность научиться:

- использовать знания о световых явлениях в повседневной жизни для обеспечения безопасности при обращении с приборами и техническими устройствами, для сохранения здоровья и соблюдения норм экологического поведения в окружающей среде; приводить примеры влияния электромагнитных излучений на живые организмы;

- различать границы применимости физических законов, понимать всеобщий характер фундаментальных законов;

- использовать приемы построения физических моделей, поиска и формулировки доказательств выдвинутых гипотез и теоретических выводов на основе эмпирически установленных фактов;

- находить адекватную предложенной задаче физическую модель, разрешать проблему как на основе имеющихся знаний о световых явлениях с использованием математического аппарата, так и при помощи методов оценки.

Личностные результаты

1. сформированность познавательных интересов, интеллектуальных и творческих способностей;
2. убежденность в возможности познания природы, в необходимости разумного использования достижений науки и технологий для дальнейшего развития человеческого общества, уважение к творцам науки и техники, отношение к физике как элементу общечеловеческой культуры;
3. самостоятельность в приобретении новых знаний и практических умений;
4. готовность к выбору жизненного пути в соответствии с собственными интересами и возможностями;
5. мотивация образовательной деятельности школьников на основе личностно ориентированного подхода;
6. формирование ценностных отношений друг к другу, учителю, авторам открытий и изобретений, результатам обучения.

Метапредметные результаты:

1. овладение навыками самостоятельного приобретения новых знаний, организации учебной деятельности, постановки целей, планирования, самоконтроля и оценки

результатов своей деятельности, умениями предвидеть возможные результаты своих действий;

2. понимание различий между исходными фактами и гипотезами для их объяснения, теоретическими моделями и реальными объектами, овладение универсальными учебными действиями на примерах гипотез для объяснения известных фактов и экспериментальной проверки выдвигаемых гипотез, разработки теоретических моделей процессов или явлений;
3. формирование умений воспринимать, перерабатывать и предъявлять информацию в словесной, образной, символической формах, анализировать и перерабатывать полученную информацию в соответствии с поставленными задачами, выделять основное содержание прочитанного текста, находить в нем ответы на поставленные вопросы и излагать его;
4. приобретение опыта самостоятельного поиска, анализа и отбора информации с использованием различных источников и новых информационных технологий для решения познавательных задач;
5. развитие монологической и диалогической речи, умения выражать свои мысли и способности выслушивать собеседника, понимать его точку зрения, признавать право другого человека на иное мнение;
6. освоение приемов действий в нестандартных ситуациях, овладение эвристическими методами решения проблем;
7. формирование умений работать в группе с выполнением различных социальных ролей, представлять и отстаивать свои взгляды и убеждения, вести дискуссию.

Содержание учебного предмета

Содержание обучения представлено в программе разделами «Тепловые явления», «Электрические явления», «Магнитные явления», «Световые явления»

Тепловые явления

Тепловое движение. Термометр. Связь температуры со средней скоростью движения его молекул. Внутренняя энергия. Два способа изменения внутренней энергии: теплопередача и работа. Виды теплопередачи. Количество теплоты. Удельная теплоемкость вещества. Удельная теплота сгорания топлива. Испарение и конденсация. Кипение. Влажность воздуха. Психрометр. Плавление и кристаллизация. Температура плавления. Зависимость температуры кипения от давления. Объяснение изменения агрегатных состояний на основе молекулярно-кинетических представлений. Преобразования энергии в тепловых двигателях. Двигатель внутреннего сгорания. Паровая турбина. Холодильник. КПД теплового двигателя. Экологические проблемы использования тепловых машин. Закон сохранения энергии в механических и тепловых процессах.

Лабораторные работы

Лабораторная работа № 1 «Сравнение количеств теплоты при смешении воды разной температуры»

Лабораторная работа № 2 «Измерение удельной теплоемкости твердого тела»

Лабораторная работа № 3 «Измерение относительной влажности воздуха с помощью термометра»

Электрические явления

Электризация тел. Два рода электрических зарядов. Проводники, непроводники (диэлектрики) и полупроводники. Взаимодействие заряженных тел. Электрическое поле. Закон сохранения электрического заряда. Делимость электрического заряда. Электрон. Электрическое поле. Напряжение. Конденсатор. Энергия электрического поля.

Электрический ток. Гальванические элементы и аккумуляторы. Действия электрического тока. Направление электрического тока. Электрическая цепь. Электрический ток в металлах. Сила тока. Амперметр. Вольтметр. Электрическое сопротивление. Закон Ома для участка электрической цепи. Удельное электрическое сопротивление. Реостаты. Последовательное и параллельное соединения проводников.

Работа и мощность тока. Закон Джоуля-Ленца. Лампа накаливания. Электрические нагревательные приборы. Электрический счетчик. Расчет электроэнергии, потребляемой электроприбором. Короткое замыкание. Плавкие предохранители. Правила безопасности при работе с источниками электрического тока

Лабораторные работы

Лабораторная работа № 4 “Сборка электрической цепи и измерение силы тока в ее различных участках”

Лабораторная работа № 5 «Измерение напряжения»

Лабораторная работа № 6 “Регулирование силы тока реостатом”

Лабораторная работа № 7 “Определение сопротивления проводника при помощи амперметра и вольтметра”

Лабораторная работа № 8 “Измерение мощности и работы тока в электрической лампе”

Магнитные явления

Постоянные магниты. Взаимодействие магнитов. Магнитное поле. Магнитное поле тока. Электромагниты и их применение. Магнитное поле Земли. Магнитные бури. Действие магнитного поля на проводник с током. Электродвигатель постоянного тока.

Лабораторные работы

Лабораторная работа №9 «Сборка электромагнита и испытание его действия»

Лабораторная работа №10 «Изучение электрического двигателя постоянного тока (на модели)»

Световые явления

Источники света. Прямолинейное распространение света в однородной среде. Отражение света. Закон отражения. Плоское зеркало. Преломление света. Линза. Фокусное расстояние и оптическая сила линзы. Построение изображений в линзах. Глаз как оптическая система. Дефекты зрения. Оптические приборы.

Лабораторные работы

Лабораторная работа №11 “Получение изображения при помощи линзы”

**Тематическое планирование с указанием количества часов,
отводимых на освоение каждой темы**

№п/п	Название тем	Количество отводимых часов	Количество контрольных работ	Количество лабораторных работ
1	Тепловые явления	23	2	3
2	Электрические явления	29	1	5
3	Магнитные явления	5	1	2
4	Световые явления	10	1	1
5	Повторение	3	1	-
ИТОГО		70	6	11

ПРИЛОЖЕНИЕ №1

Контрольные работы для учащихся 8 класс

Контрольная работа №1 «Тепловые явления»

1 вариант

1. Каким способом теплопередачи осуществляется передача энергии от Солнца к Земле?
 - А) теплопроводностью,
 - Б) излучением,
 - В) конвекцией,
 - Г) всеми видами перечисленными в А, Б, В.

2. Какая физическая величина определяет количество теплоты, необходимое для нагревания вещества массой 1 кг на 1°С?
 - А) удельная теплоемкость.
 - Б) удельная теплота плавления,
 - В) удельная теплота сгорания,
 - Г) среди ответов нет правильного

3. При каком процессе количество теплоты вычисляется по формуле $Q = m g$?
 - А) при нагревании,
 - Б) при плавлении,
 - В) при превращении жидкости в пар,
 - Г) среди ответов нет правильного.

4. Объясните, зачем нужны двойные стекла в окнах?

5. Какой формулой надо воспользоваться, для расчета количества теплоты при кристаллизации (отвердевании)?

Базовый уровень

6. Какое количество теплоты необходимо для нагревания 200 г алюминия от 20 °С до 30 °С? Удельная теплоемкость алюминия 920 Дж/кг °С?

7. Какое количество теплоты необходимо затратить, чтобы расплавить 10 кг свинца взятого при температуре плавления? Удельная теплота плавления свинца составляет $2,5 \cdot 10^4$ Дж/кг.

Повышенный уровень

8. Сколько надо сжечь каменного угля, чтобы расплавить 500 г льда, взятого при температуре - 20 °С? Воспользоваться таблицей.

9. Сколько надо сжечь спирта, чтобы 200 г железа взятого при температуре 39 °С довести до кипения? Воспользоваться таблицей.

2 вариант

1. Каким способом теплопередачи осуществляется нагрев квартиры зимой?

- А) теплопроводностью,
- Б) излучением,
- В) конвекцией,
- Г) всеми видами перечисленными в А, Б, В.

2. Какая физическая величина определяет количество теплоты, необходимое для охлаждения вещества массой 1 кг на 1 °С?

- А) удельная теплоемкость,
- Б) удельная теплота плавления,
- В) удельная теплота сгорания,
- Г) среди ответов нет правильного

3. При каком процессе количество теплоты вычисляется по формуле: $Q = m L$?

- А) при нагревании,
- Б) при плавлении,
- В) при превращении жидкости в пар,

Г) среди ответов нет правильного.

4. Объясните, почему выражение «шуба греет» не верно?

5. Какой формулой надо воспользоваться, для расчета количества теплоты выделившегося при конденсации?

Базовый уровень

6. Какое количество теплоты необходимо для остывания 200 г алюминия от 80 °С до 20 °С? Удельная теплоемкость алюминия 920 Дж/кг °С?

7. Какое количество теплоты необходимо для обращения в пар 5 кг воды, взятой при температуре кипения. Удельная теплота парообразования воды составляет $2,3 \cdot 10^6$ Дж/кг.

Повышенный уровень

8. Сколько надо сжечь древесного угля, чтобы расплавить 500 г льда, взятого при температуре -20 С? Воспользоваться таблицей.

9. Сколько надо сжечь бурого угля, чтобы 200 г меди взятой при температуре 85°С до кипения? Воспользоваться таблицей.

№	Вещество	Плотность кг/м ³	Уд. теплоемкость Дж/кг °С	Уд. теплота плавления Дж/кг	Уд. теплота парооб- разов. Дж/кг	Температура плавления °С	Температура кипения; °С	Виды топлива	Уд. теплота сгорания Дж/кг
1	Алюминий	2700	920	$3,9 \cdot 10^5$	$9,2 \cdot 10^6$	660	2467	Порох	$3,8 \cdot 10^6$
2	Вода	1000	4200	см.лед	$2,3 \cdot 10^6$	0	100	Дрова сухие	$13 \cdot 10^6$
3	Железо	7800	460	$2,7 \cdot 10^5$	$6,3 \cdot 10^6$	1539	2750	Торф	$14 \cdot 10^6$
4	Лед	900	2100	$3,4 \cdot 10^5$	вода	0	вода	Камен. уголь	$30 \cdot 10^6$
5	Медь	8900	400	$2,1 \cdot 10^5$	$4,8 \cdot 10^6$	1085	2567	Спирт	$27 \cdot 10^6$
6	Ртуть	13600	140	$0,12 \cdot 10^5$	$0,3 \cdot 10^6$	-39	357	Древесн. уголь	$34 \cdot 10^6$
7	Свинец	11300	140	$0,25 \cdot 10^5$	$0,8 \cdot 10^6$	327	1740	Бурый уголь	$17 \cdot 10^6$

8	Спирт	800	2500	$1,1 \cdot 10^5$	$0,9 \cdot 10^6$	-114	78	Бензин	$46 \cdot 10^6$
---	-------	-----	------	------------------	------------------	------	----	--------	-----------------

Контрольная работа №2 «Электрические явления»

1 вариант

Базовый уровень

1. Какой электрический заряд имеет ядро атома?
2. Каким прибором пользуются для измерения силы тока? Как он изображается на схеме?
3. Используя схему электрической цепи, изображенной на рис.1, определите общее сопротивление, если $R_1 = 2 \text{ Ом}$, $R_2 = 3 \text{ Ом}$, $R_3 = 6 \text{ Ом}$, $R_4 = 5 \text{ Ом}$.

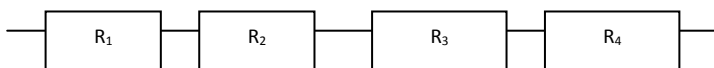


Рис. 1.

4. Какой ток течет через вольтметр, если его сопротивление 12 кОм и он показывает напряжение 120 В?
5. Электрическая печь, сделанная из никелиновой проволоки, (удельное сопротивление $0,4 \text{ Ом мм}^2/\text{м}$) длиной 56,25 м и площадью сечения $1,5 \text{ мм}^2$, присоединена к сети с напряжением 120 В. Определите силу тока, протекающего по спирали.

Повышенный уровень

6. Определите общее сопротивление цепи при последовательном соединении проводников, если напряжение равно 3 В, $I_1 = 1 \text{ А}$, $I_2 = 10 \text{ А}$.
7. Используя схему рис. 2, определите общее напряжение в цепи, если амперметр показывает 5 А, $R_1 = 2 \text{ Ом}$, $R_2 = 3 \text{ Ом}$, $R_3 = 6 \text{ Ом}$,

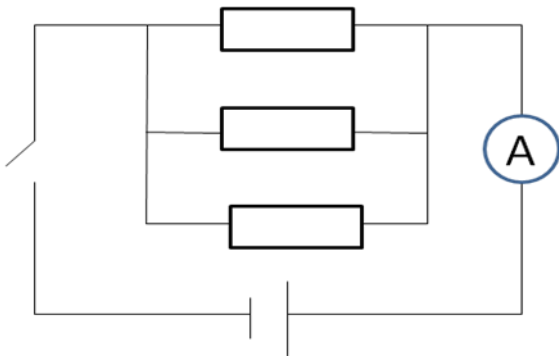


Рис. 2

8. Сила тока в цепи составляет 2 А. Что это означает?

2 вариант

Базовый уровень

1. Какого знака заряд имеет электрон?
2. Какое напряжение надо создать на концах проводника сопротивлением 50 Ом, чтобы в нем возникла сила тока 2 А ?
3. Используя схему цепи, изображенной на рис 3 определите общее напряжение, если $U_1 = 2$ В, $U_2 = 2$ В, $U_3 = 2$ В, $U_4 = 2$ В.

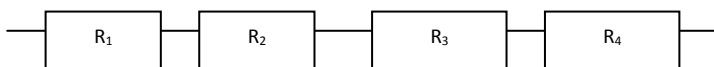


Рис. 3

4. Каким прибором измеряют напряжение, как этот прибор изображается на схемах?
5. Через алюминиевый проводник длиной 0,7 м и площадью поперечного сечения $0,75 \text{ мм}^2$ протекает ток силой 5 А. Каково напряжение на концах этого проводника? Удельное сопротивление алюминия равно $0,028 \text{ Ом мм}^2/\text{м}$

Повышенный уровень

6. Определите общее напряжение при последовательном соединении проводников, если сила тока равна 3А, $R_1 = 1 \text{ Ом}$, $R_2 = 10 \text{ Ом}$.

7. Участок цепи состоит из трех проводников (рис.4) $R_1=20\text{ Ом}$, $R_2=10\text{ Ом}$, $R_3=5\text{ Ом}$. Определите напряжение цепи, если амперметр показывает силу тока 2А.

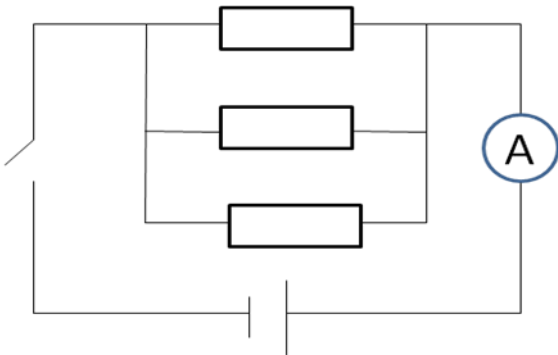


Рис. 4


8. Зависит ли величина сопротивления проводника от напряжения на его концах?

Контрольная работа №3 «Электромагнитные явления»

1 вариант

Заполните кроссворд


1. Датский ученый
2. Существует у магнитной стрелки
3. Планета, у которой нет магнитного поля
4. Он изобрел электродвигатель
5. Поле вокруг движущихся зарядов
6. Связана с солнечной активностью
7. Курская магнитная ...
8. Коэффициент полезного действия
9. Полюс Земли
10. Полюс Земли
11. «Производитель» электричества
12. Тело способное притягивать к себе железо
13. Прибор, основной частью которого является электромагнит
14. Усиливает магнитное поле катушки
15. Катушка с сердечником внутри
16. Часть двигателя



2 вариант

1. Он впервые обнаружил взаимодействие проводника с током
2. Железная руда
3. Чем больше сила тока, тем действие электромагнита ...
4. Основная часть электродвигателя
5. Хорошо притягивается магнитом
6. Очищает зерно от сорняков
7. Линия, соединяющая полюсы магнитной стрелки
8. Прибор
9. Они вызывают магнитную бурю
10. Электро-...
11. Полюса, которые между собой притягиваются

12. С их помощью можно обнаружить магнитное поле
13. Тело, длительное время, сохраняющее намагниченность

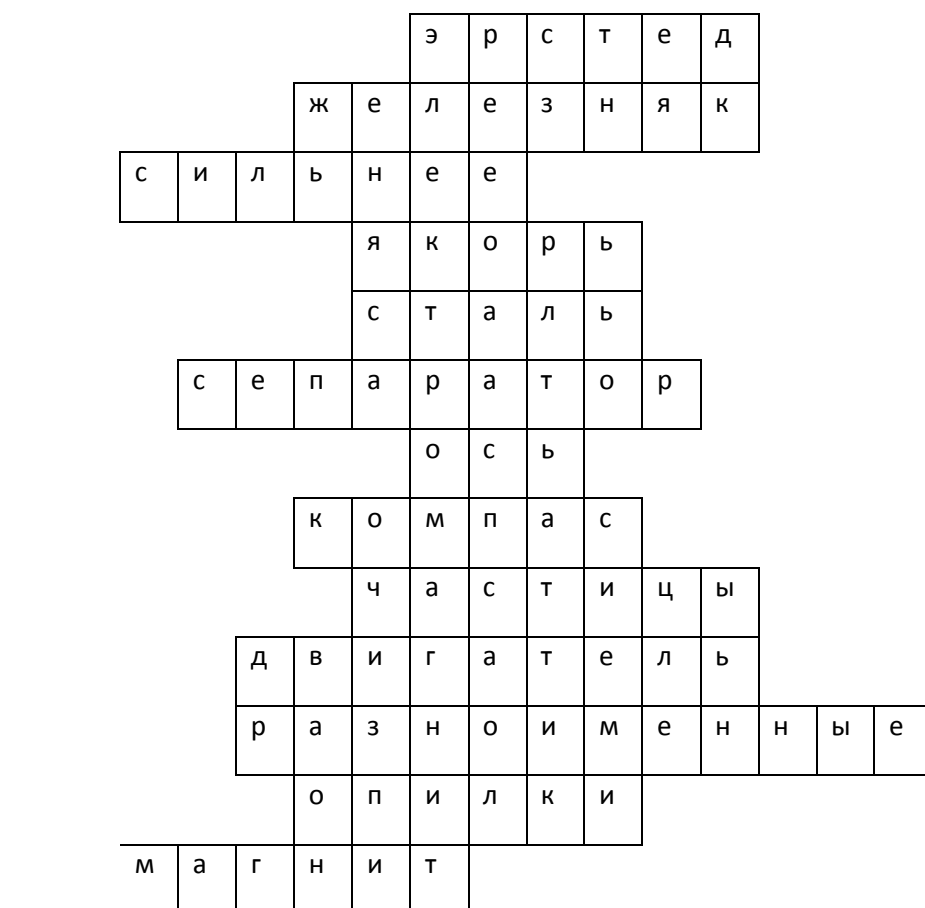


Ключ контрольной работы №3 «Электромагнитные явления»

1 вариант

1. Датский ученый (*Эрстед*)
2. Существует у магнитной стрелки (*полюс*)
3. Планета, у которой нет магнитного поля (*Венера*)
4. Он изобрел электродвигатель (*Якоби*)
5. Поле вокруг движущихся зарядов (*магнитное*)
6. Связана с солнечной активностью (*буря*)
7. Курская магнитная ... (*аномалия*)
8. Коэффициент полезного действия (*кпд*)

3. Чем больше сила тока, тем действие электромагнита ... (*сильнее*)
4. Основная часть электродвигателя (*якорь*)
5. Хорошо притягивается магнитом (*сталь*)
6. Очищает зерно от сорняков (*сепаратор*)
7. Линия, соединяющая полюсы магнитной стрелки (*ось*)
8. Прибор (*компас*)
9. Они вызывают магнитную бурю (*частицы*)
10. Электро-...(*двигатель*)
11. Полюса, которые между собой притягиваются (*разноименные*)
12. С их помощью можно обнаружить магнитное поле (*опилки*)
13. Тело, длительное время, сохраняющее намагниченность (*магнит*)



Контрольная работа № 4 «Световые явления»

1 вариант

Базовый уровень

1. Из перечисленных источников света выпишите искусственные: *Солнце, свеча, звезды, гнилушки, молния, лампы накаливания, Луна, экран телевизора.*
2. Выберите законы для явления отражения света:
 - а) *угол падения равен углу отражения;*
 - б) *угол падения равен углу преломления*
 - в) *отношение синуса угла падения к синусу угла преломления есть величина постоянная для двух сред;*
 - г) *лучи, падающий и отраженный, лежат в одной плоскости с перпендикуляром, проведенным к границе раздела двух сред в точке падения луча.*
3. Каким будет изображение в собирающей линзе, если предмет находится между линзой и ее фокусом? Докажите.
4. Фокусное расстояние линзы, равно 250 см. Какова оптическая сила линзы?
5. Оптическая сила линз у очков, равна 2 дптр. Каково фокусное расстояние линз?

Повышенный уровень

6. Построить изображение в рассеивающей линзе, если предмет находится за двойным фокусным расстоянием.
7. Определить угол преломления луча в воде, если угол падения равен 35° .
8. Луч переходит из воды в стекло. Угол падения равен 60° , Найдите угол преломления.
Показатели преломления: вода 1,3; стекло 1,6.

II вариант

Базовый уровень

1. Из перечисленных источников света выпишите естественные:
Солнце, свеча, звезды, гнилушки, молния, лампы накаливания, Луна, экран телевизора.
2. Выберите законы для явления преломления света:
 - а) *угол падения не равен углу отражения;*
 - б) *угол падения равен углу преломления*

в) отношение синуса угла падения к синусу угла преломления есть величина постоянная для двух сред;

г) лучи, падающий и отраженный, лежат в одной плоскости с перпендикуляром, проведенным к границе раздела двух сред в точке падения луча.

3. Каким будет изображение в собирающей линзе, если предмет находится между линзой и ее двойным фокусным расстоянием? Докажите.

4. Фокусное расстояние линзы, равно 25 см. Какова оптическая сила линзы?

5. Оптическая сила линз у очков, равна 4 дптр. Каково фокусное расстояние линз?

Повышенный уровень

6. Построить изображение в рассеивающей линзе, если предмет находится между фокусом и двойным фокусом.

7. Под каким углом должен упасть луч на стекло, если угол преломления равен 10° ?

8. Луч переходит из воды в алмаз. Угол падения равен 20° . Найдите угол преломления.

Показатели преломления: вода 1,3; алмаз 2,4.

Таблица значений синусов

1°	2°	3°	4°	5°	6°	7°	8°	9°	10°
0,017	0,034	0,052	0,069	0,087	0,104	0,121	0,139	0,156	0,173
11°	12°	13°	14°	15°	16°	17°	18°	19°	20°
0,190	0,207	0,225	0,241	0,258	0,275	0,292	0,309	0,325	0,342
21°	22°	23°	24°	25°	26°	27°	28°	29°	30°
0,358	0,374	0,390	0,406	0,422	0,438	0,454	0,469	0,484	0,500
31°	32°	33°	34°	35°	36°	37°	38°	39°	40°

0.515	0.529	0.544	0.559	0.573	0.587	0.601	0.615	0.629	0.642
41°	42°	43°	44°	45°	46°	47°	48°	49°	50°
0.656	0.669	0.682	0.694	0.707	0.719	0.731	0.743	0.754	0.766
51°	52°	53°	54°	55°	56°	57°	58°	59°	60°
0.777	0.788	0.798	0.809	0.819	0.829	0.838	0.848	0.857	0.866
61°	62°	63°	64°	65°	66°	67°	68°	69°	70°
0.874	0.888	0.891	0.898	0.906	0.913	0.920	0.927	0.933	0.939
71°	72°	73°	74°	75°	76°	77°	78°	79°	80°
0.945	0.951	0.956	0.961	0.965	0.970	0.974	0.978	0.981	0.984
81°	82°	83°	84°	85°	86°	87°	88°	89°	90°
0.987	0.990	0.992	0.994	0.996	0.997	0.998	0.999	0.999	1.000
91°	92°	93°	94°	95°	96°	97°	98°	99°	100°

Ключ к контрольной работе № 4 «Световые явления»

1 вариант

Базовый уровень

1. Искусственные источники света: свеча, лампы накаливания, экран телевизора.
2. Законы отражения света: а) угол падения равен углу отражения; б) лучи, падающий и отраженный, лежат в одной плоскости с перпендикуляром, проведенным к границе раздела двух сред в точке падения луча.
3. Изображение в собирающей линзе, если предмет находится между линзой и ее фокусом: мнимое, увеличенное, прямое (рис.1.)

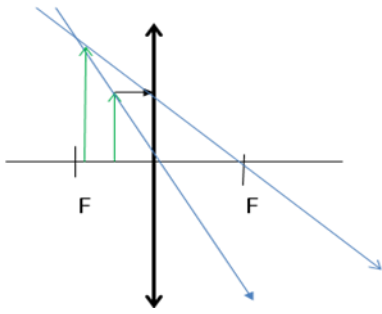


Рис. 1

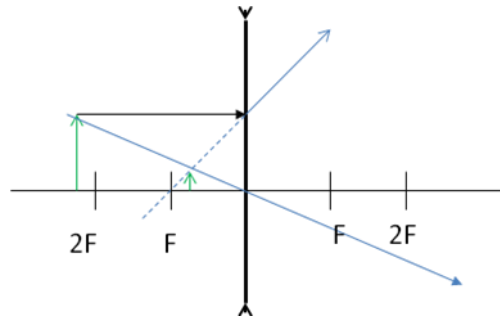


Рис. 2

4. Дано: Решение:

$$F = 250 \text{ см} \quad 2,5 \text{ м} \quad D = 1 : F \quad D = 1 : 2,5 \text{ м} = 0,4 \text{ дптр}$$

D-?

Ответ: D = 0,4 дптр

5. Дано: Решение:

$$D = 2 \text{ дптр.} \quad D = 1 : F \quad F = 1 : 2 \text{ дптр} = 0,5 \text{ м} = 50 \text{ см}$$

F-?

$$F = 1 : D$$

Ответ: F = 0,5 м = 50 см

Повышенный уровень

6. Изображение *мнимое, уменьшенное, прямое* (рис. 2)

7. Дано: Решение:

$$\alpha = 35^\circ \quad n = \sin \alpha : \sin \gamma \quad \sin \gamma = 0,573 : 1,3 = 0,44$$

$$n = 1,3 \quad \sin \gamma = \sin \alpha : n \quad \text{по таблице } 0,44 \text{ это } \approx \sin 26^\circ$$

γ -?

значит: $\gamma = 26,5^\circ$

Ответ: $\gamma = 26,5^\circ$

8. Дано:

Решение:

$$\alpha = 60^\circ \quad \sin \alpha : \sin \gamma = n \quad n = 1,6 : 1,3 = 1,23$$

$$n_1 = 1,3 \quad \sin \gamma = \sin \alpha : n \quad \sin \gamma = 0,866 : 1,23 = 0,813$$

$$n_2 = 1,6 \quad n = n_2 : n_1 \quad \text{по таблице } 0,813 \text{ это } \sin 55^\circ, \text{ значит: } \gamma = 55^\circ$$

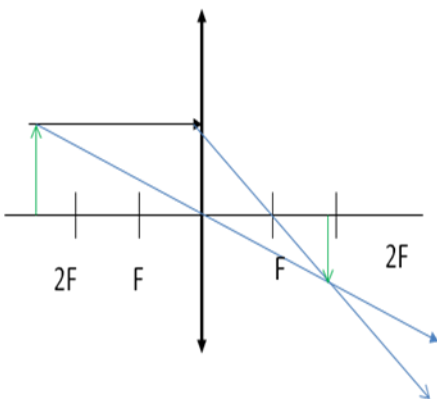
γ -?

Ответ: $\gamma = 55^\circ$

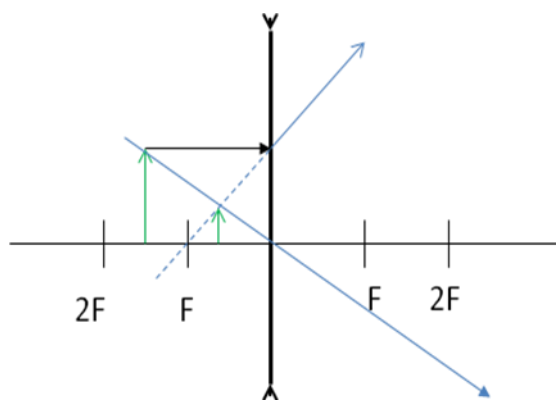
II вариант

Базовый уровень

1. Естественные источники света выпишите: *Солнце, звезды, гнилушки, молния.*
2. Законы преломления света: *в) отношение синуса угла падения к синусу угла преломления есть величина постоянная для двух сред;*
3. Изображение в собирающей линзе, когда предмет находится между линзой и ее двойным фокусным расстоянием: *действительное, перевернутое, уменьшенное (рис. 1)*



(рис. 1)



(рис. 2)

4. Дано:

Решение:

$$F = 25 \text{ см} = 0,25 \text{ м} \quad D = 1 : F \quad D = 1 : 0,25 \text{ м} = 4 \text{ дптр}$$

D-?

Ответ: D = 4 дптр

5. Дано:

Решение:

$$D = 4 \text{ дптр.} \quad D = 1 : F \quad F = 1 : 4 \text{ дптр} = 0,25 \text{ м} = 25 \text{ см}$$

F-?

$$F = 1 : D$$

Ответ: F = 0,25 м = 25 см

Повышенный уровень

6. Изображение в рассеивающей линзе, когда предмет находится между фокусом и ее двойным фокусным расстоянием : *мнимое, уменьшенное, прямое (рис. 2).*

7. Дано:

Решение:

$$\gamma = 10^\circ \quad n = \sin \alpha : \sin \gamma \quad \sin \alpha = 0,173 \cdot 1,6 = 0,276$$

$n = 1,6$ $\sin \alpha = \sin \gamma \cdot n$ по таблице 0,276 это $\approx \sin 16^\circ$

α -?

Ответ: $\alpha \approx 16^\circ$

8. Дано:

Решение:

$\alpha = 20^\circ$ $n = \sin \alpha : \sin \gamma$

$n = 2,4 : 1,3 = 1,846$

$n_1 = 1,3$ $\sin \gamma = \sin \alpha : n$

$\sin \gamma = 0,342 : 1,846 = 0,185$

$n_2 = 2,4$ $n = n_2 : n_1$

по таблице 0,185 это $\approx \sin 10^\circ$

γ -?

Ответ: $\gamma \approx 10^\circ$

Оценка ответов учащихся

Количественные отметки за уровень освоения курса, предмета выставляются в соответствии с бальной системой оценивания: «2» - неудовлетворительно, «3» удовлетворительно, «4» - хорошо и «5» - отлично.

Оценка «5» ставится в том случае, если учащийся показывает верное понимание физической сущности рассматриваемых явлений и закономерностей, законов и теорий, а так же правильное определение физических величин, их единиц и способов измерения: правильно выполняет чертежи, схемы и графики; строит ответ по собственному плану, сопровождает рассказ собственными примерами, умеет применять знания в новой ситуации при выполнении практических заданий; может установить связь между изучаемым и ранее изученным материалом по курсу физики, а также с материалом, усвоенным при изучении других предметов.

Оценка «4» ставится, если ответ ученика удовлетворяет основным требованиям на оценку «5», но дан без использования собственного плана, новых примеров, без применения знаний в новой ситуации, без использования связей с ранее изученным материалом и материалом, усвоенным при изучении др. предметов: если учащийся допустил одну ошибку или не более двух недочётов и может их исправить самостоятельно или с небольшой помощью учителя.

Оценка «3» ставится, если учащийся правильно понимает физическую сущность рассматриваемых явлений и закономерностей, но в ответе имеются отдельные пробелы в усвоении вопросов курса физики, не препятствующие дальнейшему усвоению вопросов программного материала: умеет применять полученные знания при решении простых задач с использованием готовых формул, но затрудняется при решении задач, требующих преобразования некоторых формул, допустил не более одной грубой ошибки и двух недочётов, не более одной грубой и одной негрубой ошибки, не более 2-3 негрубых ошибок, одной негрубой ошибки и трёх недочётов; допустил 4-5 недочётов.

Оценка «2» ставится, если учащийся не овладел основными знаниями и умениями в соответствии с требованиями программы и допустил больше ошибок и недочётов чем необходимо для оценки «3».

Оценка контрольных работ

Оценка «5» ставится за работу, выполненную полностью без ошибок и недочётов.

Оценка «4» ставится за работу выполненную полностью, но при наличии в ней не более одной грубой и одной негрубой ошибки и одного недочёта, не более трёх недочётов.

Оценка «3» ставится, если ученик правильно выполнил не менее 2/3 всей работы или допустил не более одной грубой ошибки и двух недочётов, не более одной грубой ошибки и одной негрубой ошибки, не более трех негрубых ошибок, одной негрубой ошибки и трех недочётов, при наличии 4 - 5 недочётов.

Оценка «2» ставится, если число ошибок и недочётов превысило норму для оценки 3 или правильно выполнено менее 2/3 всей работы.

Оценка лабораторных работ

Оценка «5» ставится, если учащийся выполняет работу в полном объеме с соблюдением необходимой последовательности проведения опытов и измерений; самостоятельно и рационально монтирует необходимое оборудование; все опыты проводит в условиях и режимах, обеспечивающих получение правильных результатов и выводов; соблюдает требования правил безопасности труда; в отчете правильно и аккуратно выполняет все записи, таблицы, рисунки, чертежи, графики, вычисления; правильно выполняет анализ погрешностей.

Оценка «4» ставится, если выполнены требования к оценке «5» , но было допущено два - три недочета, не более одной негрубой ошибки и одного недочёта.

Оценка «3» ставится, если работа выполнена не полностью, но объем выполненной части таков, позволяет получить правильные результаты и выводы: если в ходе проведения опыта и измерений были допущены ошибки.

Оценка «2» ставится, если работа выполнена не полностью и объем выполненной части работы не позволяет сделать правильных выводов: если опыты, измерения, вычисления, наблюдения производились неправильно.

Во всех случаях оценка снижается, если ученик не соблюдал требования правил безопасности труда.

Оценка тестовых работ учащихся

«5» - 85% - 100%

«4» - 65% - 84%

«3» - 41% - 64%

«2» - 21% - 40%

«1» - 0% - 20%

Перечень ошибок:

Грубые ошибки

- Незнание определений основных понятий, законов, правил, положений теории, формул, общепринятых символов, обозначения физических величин, единицу измерения.
- Неумение выделять в ответе главное.
- Неумение применять знания для решения задач и объяснения физических явлений; неправильно сформулированные вопросы, задания или неверные объяснения хода их решения, незнание приемов решения задач, аналогичных ранее решенным в классе; ошибки, показывающие неправильное понимание условия задачи или неправильное истолкование решения.
- Неумение читать и строить графики и принципиальные схемы
- Неумение подготовить к работе установку или лабораторное оборудование, провести опыт, необходимые расчеты или использовать полученные данные для выводов.
- Небрежное отношение к лабораторному оборудованию и измерительным приборам.
- Неумение определить показания измерительного прибора.
- Нарушение требований правил безопасного труда при выполнении эксперимента.

Негрубые ошибки

- Неточности формулировок, определений, законов, теорий, вызванных неполнотой ответа основных признаков определяемого понятия. Ошибки, вызванные несоблюдением условий проведения опыта или измерений.
- Ошибки в условных обозначениях на принципиальных схемах, неточности чертежей, графиков, схем.
- Пропуск или неточное написание наименований единиц физических величин.
- Нерациональный выбор хода решения.

Недочеты

- Нерациональные записи при вычислениях, нерациональные приемы вычислений, преобразований и решения задач.
- Арифметические ошибки в вычислениях, если эти ошибки грубо не искажают реальность полученного результата.
- Отдельные погрешности в формулировке вопроса или ответа.
- Небрежное выполнение записей, чертежей, схем, графиков.
- Орфографические и пунктуационные ошибки